

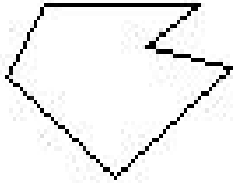
Temps previst per fer aquesta feina bé:


Temps previst per fer aquesta feina ràpid:


NOM:

DATA:

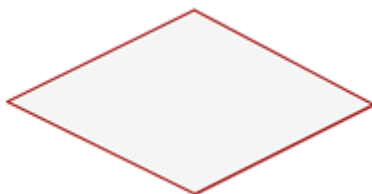
Classifica els següents polígons en funció de si són concavos o convexos. Després tria 2 angles interiors de cada polígon i pinta'ls de verd i llavors pinta de vermell 2 d'exterior de cada figura. Un dels que pintis ha de ser més gran de 180° . Finalment anomena i mesura els angles que has pintat.

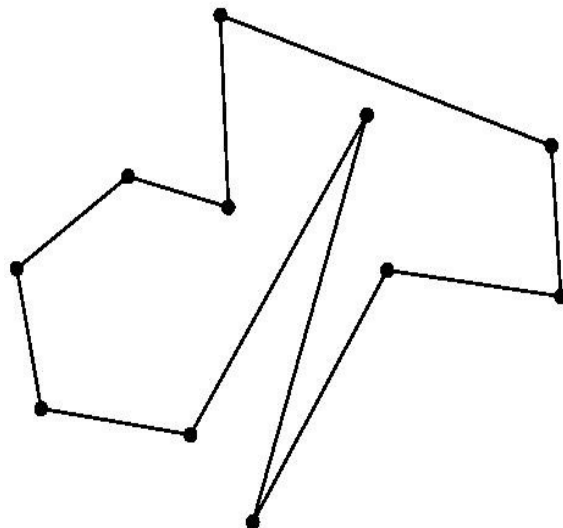












Temps dedicat a fer la feina:

Valoració de la feina (encercla la resposta): M R B MB